

Aufgaben Geografie Klasse 7a für die 27. und 28. Schulwoche

Thema 1: Naturraum tropischer Regenwald - Hausaufgabenteil

1. Stelle den Nährstoffkreislauf im tropischen Regenwald dar!
2. Löse die Aufgabe des Arbeitsblattes zum Stockwerkbau des tropischen Regenwaldes!

Nutze zur Lösung der Aufgaben das Internet!

Thema 2: Landwirtschaft in den Tropen

1. Vergleiche den Wanderfeldbau mit der Landwechselwirtschaft! Skizziere dabei auch die Prinzipien (siehe M1 und M4) Nutze dazu die Informationen LBS106/107!
2. Löse das Arbeitsblatt „Leben im tropischen Regenwald“!

Thema 3: Nutzung und Zerstörung des tropischen Regenwaldes

1. Lies die Texte LBS108/109, um dir einen ersten Überblick zu verschaffen!
2. LBS108A2!
3. LBS109A3-6!
4. Löse das Arbeitsblatt „Nutzung und Zerstörung des tropischen Regenwalds“!

Thema 4: Plantagenwirtschaft in den Tropen


1. Definiere die Begriffe Plantage und Cash Crop!
2. LBS110A2!
3. LBS111A4!

Zusatz: LBS111A5, 6!

Der Naturraum tropischer Regenwald

03

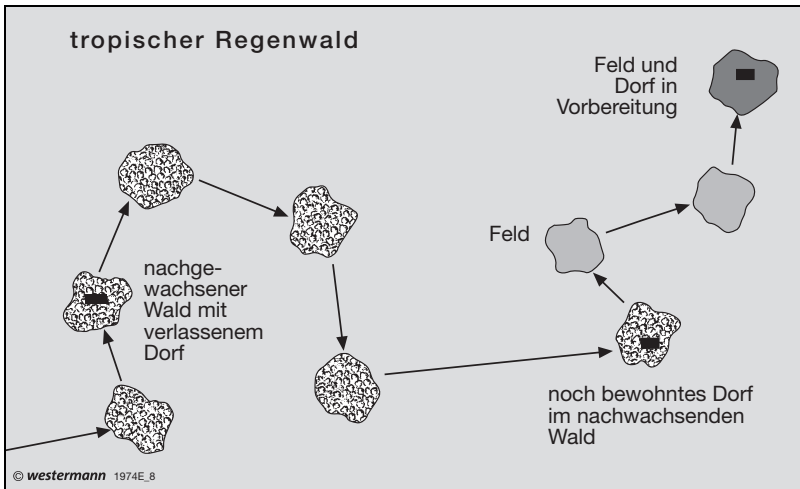
Der tropische Regenwald ist eine Schatztruhe. Er liefert nicht nur Nahrungsmittel wie Bananen, Kakao und Nüsse, sondern auch Grundstoffe für Kosmetika und Arzneimittel sowie Rohstoffe wie Gummi, Öle, Fasern und Harze. Fliegt man mit dem Flugzeug über den tropischen Regenwald, erscheint er wie ein grünes Meer. Wie aber sieht er vom Boden aus?



M1 Stockwerkbau

1. Male M1 aus.
2. Beschrifte M1, indem du die Namen der Stockwerke einträgst.

Die Bantus leben im tropischen Regenwald in Afrika. Sie betreiben Wanderfeldbau. Wie nutzen die Bantus den tropischen Regenwald zum Leben?




M1 Prinzip des Wanderfeldbaus

1. Erkläre, wie Wanderfeldbau betrieben wird (M1).

2. Früher war der Wanderfeldbau eine angepasste Wirtschaftsform im tropischen Regenwald, heute ist er das nicht mehr. Begründe.

Der tropische Regenwald wird vielfältig genutzt. Dadurch wird er aber zerstört. Der tropische Regenwald ist jedoch wichtig für das Leben auf der Erde. Wer nutzt und zerstört den tropischen Regenwald?



M1 Nutzung und Zerstörung des tropischen Regenwalds

1. Ordne die folgenden Nutzungen und Zerstörungen den Buchstaben in M1 zu.

- ① Rinderfarmen – ② Abholzung und Nutzholzeinschlag – ③ Siedlungen – ④ Straßenbau –
 ⑤ Brandrodung – ⑥ Plantagen – ⑦ Dauerfeldbau

2. Du sitzt auf einer Bank. Neben dir liegt eine Tüte mit Bananen. Von einem Fast-Food-Restaurant hast du dir einen Burger mitgebracht. Zeige auf, wie du den tropischen Regenwald nutzt.
